



EXEMPLAR PENTRU ELEV

Republica Serbia  
MINISTERUL EDUCAȚIEI  
INSTITUTUL PENTRU EVALUAREA  
CALITĂȚII ÎNVĂȚĂMÂNTULUI ȘI EDUCAȚIEI

EXAMENUL FINAL LA SFÂRȘITUL ÎNVĂȚĂMÂNTULUI GENERAL

# TEST GEOGRAFIE

## FORMULAR DE IDENTIFICARE

PRENUMELE, PRENUMELE UNUIA DIN PĂRINȚI/ALTUI REPREZENTANT LEGAL, NUMELE ELEVULUI

NUMĂRUL DE IDENTIFICARE AL ELEVULUI

--	--	--	--	--	--	--	--	--	--

ȘCOALA GENERALĂ

LOCALITATEA

COMUNA


SEMNĂTURA PROFESORULUI DE SERVICIU

Rezultatele se pot vedea pe portalul **Moja srednja škola**: <https://mojasrednjaskola.gov.rs> prin introducerea numărului unic de identificare a elevului (parolă de zece cifre a elevului). În scopul preluării testului scanat în format pdf, în partea unde se pot vedea rezultatele examenului final, este necesar să se introducă codul unic al testului.

**Codul unic al testului:** 170620260846

În cazul în care părintele / alt reprezentant legal are cont pe portalul **Moj esDnevnik** sau are cont pe **Portal za elektronsku identifikaciju eID.gov.rs**, prin care accesează portalul **Moj esDnevnik**, atunci, pe lângă listarea rezultatelor examenului final, pe portalul **Moja srednja skola** poate folosi una dintre următoarele servicii electronice: depunerea plângerii privind rezultatele examenului final, depunerea listei de dorințe în formă electronică și depunerea formularului de înscriere pentru școala medie.

## INDICAȚII DE LUCRU

- Testul pe care trebuie să-l rezolvi conține **20 de exerciții**. Pentru rezolvarea testului sunt prevăzute **120 de minute**.
- Exercițiile nu trebuie să le rezolvi în ordinea în care sunt date.
- În timpul lucrului, poți folosi creion obișnuit și radieră, dar nu ai voie să folosești calculatorul și telefonul mobil.
- Scrie răspunsurile și modul de rezolvare cu **pix cu pastă albastră**.
- Răspunsul care este scris numai cu creionul, cu pixul cu pastă neagră sau cu pixul „scrii-ștergi” nu va fi recunoscut.
- În exercițiile cu răspunsuri oferite nu vor fi recunoscute răspunsurile corectate.
- În exercițiile cu răspunsuri oferite, în care doar un singur răspuns este corect, obții 0 puncte dacă pe lângă răspunsul corect marchezi și vreunul incorect.
- Acordă atenție faptului că exercițiile se deosebesc prin modul în care trebuie să dai răspunsul.
- Nu scrie nimic pe codurile QR (  ) care se află pe fiecare pagină a testului.

În unele exerciții vei alege răspunsul corect astfel încât vei colora cerculețul corespunzător. În exercițiile în care există mai multe răspunsuri corecte, este necesar să colorezi mai multe cerculețe. Ține cont de faptul că cerculețul trebuie să fie colorat, deoarece numai așa răspunsul îți va fi recunoscut.

EXEMPLU DE CERCULEȚE COLORATE
<p>În exercițiul cu un singur răspuns corect</p> <p>Care este orașul principal al Serbiei?</p> <p>Colorează cerculețul din dreptul răspunsului corect.</p> <p><input type="radio"/> Novi Sad</p> <p><input checked="" type="radio"/> Belgrad</p> <p><input type="radio"/> Niš</p> <p><input type="radio"/> Kruševac</p>
<p>În exercițiile cu mai multe răspunsuri corecte</p> <p>Colorează <b>cerculețele</b> din dreptul expresiilor a căror sumă este 5.</p> <p><input checked="" type="radio"/> <math>2 + 3</math></p> <p><input type="radio"/> <math>1 + 2</math></p> <p><input checked="" type="radio"/> <math>4 + 1</math></p> <p><input type="radio"/> <math>2 + 4</math></p> <p><input type="radio"/> <math>3 + 5</math></p>

- Dacă termini mai devreme, predă testul și ieși în liniște.

Îți dorim mult succes la examen!

EXAMENUL FINAL LA SFÂRȘITUL ÎNVĂȚĂMÂNTULUI GENERAL  
TEST  
GEOGRAFIE

1. Care este simbolul internațional pentru Est?  
Colorează cerculețul din fața răspunsului corect.
- ☐ N                      ☐ S                      ☐ E                      ☐ W
2. Care forme de relief sunt reprezentate pe hărți cu nuanțe diferite de verde?  
Colorează cerculețul din fața răspunsului corect.
- ☐ munți                      ☐ podișuri                      ☐ câmpii                      ☐ deșerturi
3. Care planetă este situată la cea mai mare distanță de Soare?  
Colorează cerculețul din fața răspunsului corect.
- ☐ Saturn                      ☐ Neptun                      ☐ Jupiter                      ☐ Uranus
4. Cum se numește procesul de mișcare a Pământului în jurul Soarelui?  
Colorează cerculețul din fața răspunsului corect.
- ☐ rotație                      ☐ acumulare                      ☐ revoluție                      ☐ eroziune
5. Care sunt cele mai mari suprafețe de apă de pe Pământ?  
Colorează cerculețul din fața răspunsului corect.
- ☐ oceanele                      ☐ mările                      ☐ râurile                      ☐ lacurile
6. Cum se numește numărul mediu de locuitori pe o suprafață de un kilometru pătrat?  
Colorează cerculețul din fața răspunsului corect.
- ☐ densitatea populației                      ☐ spor natural
- ☐ natalitate                      ☐ mortalitate
7. Care continent are ponderea cea mai mare a populației tinere?  
Colorează cerculețul din fața răspunsului corect.
- ☐ Europa                      ☐ Africa                      ☐ America de Nord                      ☐ Australia
8. Care activitate aparține sectorului economic terțiar?  
Colorează cerculețul din fața răspunsului corect.
- ☐ știința                      ☐ silvicultura                      ☐ industria ospitalieră                      ☐ construcțiile

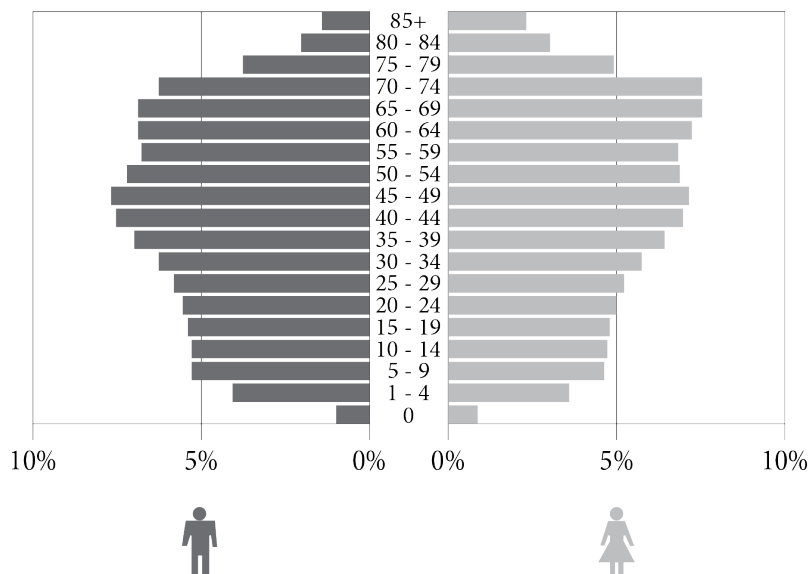
9. Pe care continent este situată țara cu cel mai mare număr de locuitori?  
Colorează cerculețul din fața răspunsului corect.
- ☐ America de Nord      ☐ Europa      ☐ Africa      ☐ Asia
10. Pe care emisferă este situată întreaga suprafață a Europei?  
Colorează cerculețul din fața răspunsului corect.
- ☐ nordică      ☐ sudică      ☐ estică      ☐ vestică
11. În care lună, pe emisfera nordică a Pământului este solstițiul de iarnă?  
Colorează cerculețul din fața răspunsului corect.
- ☐ în ianuarie      ☐ în iunie      ☐ în septembrie      ☐ în decembrie
12. Colorează cerculețul din spațiul corespunzător, astfel încât să legi tipurile de lacuri cu modul de formare a bazinelor lor lacustre.

	tectonic	carstic	eolian
Se formează când apa umple adânciturile din spațiul calcaros.	<input type="radio"/>	<input type="radio"/>	<input type="radio"/>
Se formează când apa umple părțile uscatului coborâte de-a lungul faliei.	<input type="radio"/>	<input type="radio"/>	<input type="radio"/>
Sunt situate în adânciturile formate în urma acțiunii vântului.	<input type="radio"/>	<input type="radio"/>	<input type="radio"/>

13. Care dintre statele enumerate nu este membru al Uniunii Europene?  
Colorează cerculețul din fața răspunsului corect.

- ☐ Bulgaria
- ☐ Belgia
- ☐ Elveția
- ☐ Spania

14. Care sunt caracteristicile piramidei vârstelor din Serbia care este prezentată în imagine?



Colorează cerculețul din fața răspunsului corect.

- ☐ o prezență mai mare a populației bătrâne față de populația tânără
- ☐ cea mai mare pondere a populației cu vârsta între 30 – 40 de ani
- ☐ cea mai mare pondere a populației tinere
- ☐ o prezență mai mică a femeilor față de bărbați cu vârsta între 80 – 84 de ani

15. Care râu „a tăiat” strâmtoarea Ovčar-kablar?

Colorează cerculețul din fața răspunsului corect.

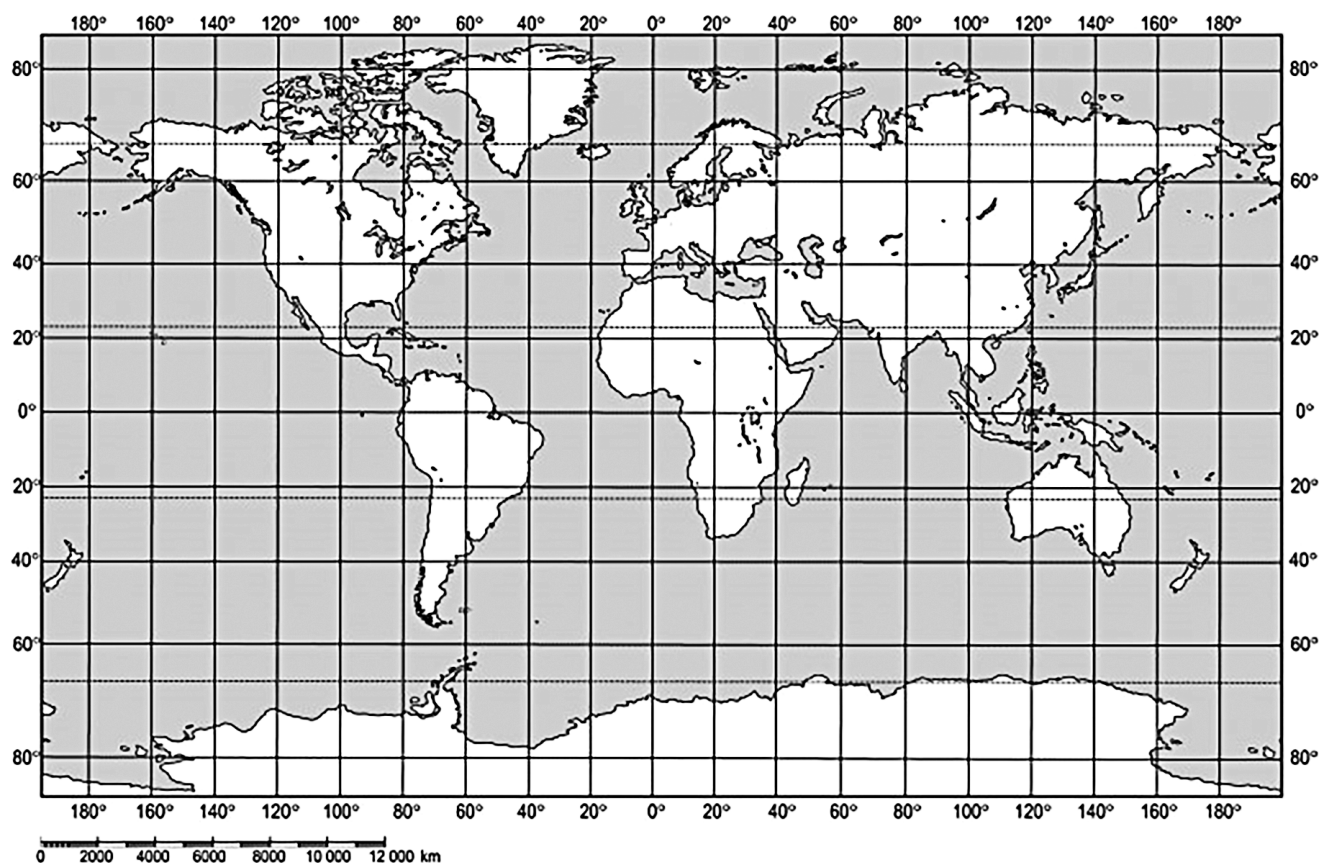
- ☐ Velika Morava
- ☐ Južna Morava
- ☐ Zapadna Morava
- ☐ Binačka Morava

16. Care parte a Asiei are cel mai fragmentat țărm?

Colorează cerculețul din fața răspunsului corect.

- ☐ Asia de Sud-Vest
- ☐ Asia Centrală
- ☐ Asia de Sud
- ☐ Asia de Sud-Est

17. În care ocean se află punctul cu coordonatele 30°lat. geogr. N și 30°long. geogr. W?



Colorează cerculețul din fața răspunsului corect.

- ☐ Oceanul Înghețat de Nord      ☐ Oceanul Atlantic      ☐ Oceanul Indian      ☐ Oceanul Pacific

18. Participi la manifestarea „Zilele lui Jovan Cvijić” în Loznica. Care este cea mai apropiată stațiune până la care poți să faci o excursie? Colorează cerculețul din fața răspunsului corect.

- ☐ stațiunea Vrdnik      ☐ stațiunea Koviljača      ☐ Sokobanje      ☐ stațiunea Vrnjačka

19. Care țări sunt situate parțial în Câmpia Panonică?  
Colorează **cerculețele** din fața răspunsurilor corecte.

- ☐ Grecia      ☐ Bulgaria      ☐ Croația      ☐ Albania      ☐ Slovenia

20. Este cel mai lung fluviu al Anglo-Americii. Se unește cu Missouri în orașul Saint Louis. Curge în direcție meridională prin Câmpia Centrală. Înainte de vărsare în golful Mexic formează o deltă mare.

Care este acest fluviu?

Colorează cerculețul din fața răspunsului corect.

- ☐ Mississippi      ☐ Mackenzie      ☐ Mekong      ☐ Murray

# PAGINĂ GOALĂ



Republica Serbia  
MINISTERUL EDUCAȚIEI  
INSTITUTUL PENTRU EVALUAREA  
CALITĂȚII ÎNVĂȚĂMÂNTULUI ȘI EDUCAȚIEI

EXEMPLAR PENTRU ȘCOALĂ

SE LIPEȘTE ETICHETA DE IDENTIFICARE

EXAMENUL FINAL LA SFÂRȘITUL ÎNVĂȚĂMÂNTULUI GENERAL

# TEST GEOGRAFIE

## FORMULAR DE IDENTIFICARE

PRENUMELE, PRENUMELE UNUIA DIN PĂRINȚI/ALTUI REPREZENTANT LEGAL, NUMELE ELEVULUI

NUMĂRUL DE IDENTIFICARE AL ELEVULUI

--	--	--	--	--	--	--	--	--	--

ȘCOALA GENERALĂ \_\_\_\_\_

LOCALITATEA \_\_\_\_\_

COMUNA \_\_\_\_\_

SEMNĂTURA PROFESORULUI DE SERVICIU